

令和4年度 S特選コース

第1回 入学試験問題 (2月1日 午後)

社 会

注 意

- 1 この問題用紙は、試験開始の合図で開くこと。
- 2 問題用紙と解答用紙に受験番号・氏名を記入すること。
- 3 答えはすべて解答用紙に記入すること。
漢字で書くべき解答は、漢字で答えること。
- 4 印刷がわからない場合は申し出ること。
- 5 試験終了の合図でやめること。

受験 番号		氏 名	
----------	--	--------	--

1 次の【写真】に関連する会話文を読んで、後の問いに答えなさい。

【写真】 プラレール 超電導リニアL0系 改良型試験車



(タカラトミーモールHP)

子：お父さん、見て！カッコいい電車のおもちゃが売られているよ！

父：懐かしいなあ。これはA リニアモーターカーなのかな？車輪を透明にして浮いているように見せているね。

子：他にも自動車のおもちゃもたくさん売られているね！

父：こっちはB 電気自動車のモデルだね。お父さんが小さいころにも売られていたおもちゃが、今ではこんなに進化しているのだね。このメーカーは創業50周年をこえているみたいだよ。

子：50年前っていったら1970年ぐらいかな？なんでそのころに車のおもちゃが発売されるようになったのかな？

父：どうやらそのくらいの時代から自動車が日本で普及し始めたようだね。C 高度経済成長のなかで人々の暮らしが豊かになってD 自動車が身近になったのだね。

子：ふうん。みんなが自動車を使うようになると、何か困ることはないの？

父：地球温暖化が進むことがわかりやすい問題点だけど、E 自動車に乗れない人が困るというのも問題のひとつかもしれないね。

子：F 船舶や航空機といった他の交通手段との関係性も調べてみると面白そう！

父：おもちゃ屋に来てみたら夏休みの自由研究のテーマが決まったね。

問1 下線部Aについて、2027年開業予定の「リニア中央新幹線」が通過する県として誤っているものを、次の①～④から選びなさい。

- ① 岐阜県 ② 静岡県 ③ 長野県 ④ 埼玉県

問2 下線部 B について、次の問いに答えなさい。

- (1) 電気自動車は従来の自動車と比べて環境にやさしいと言われています。その理由について説明した次の文中の空らんにあてはまる言葉を、6字で答えなさい。

電気自動車は、走行する際に二酸化炭素などの（ ）を排出しないから。

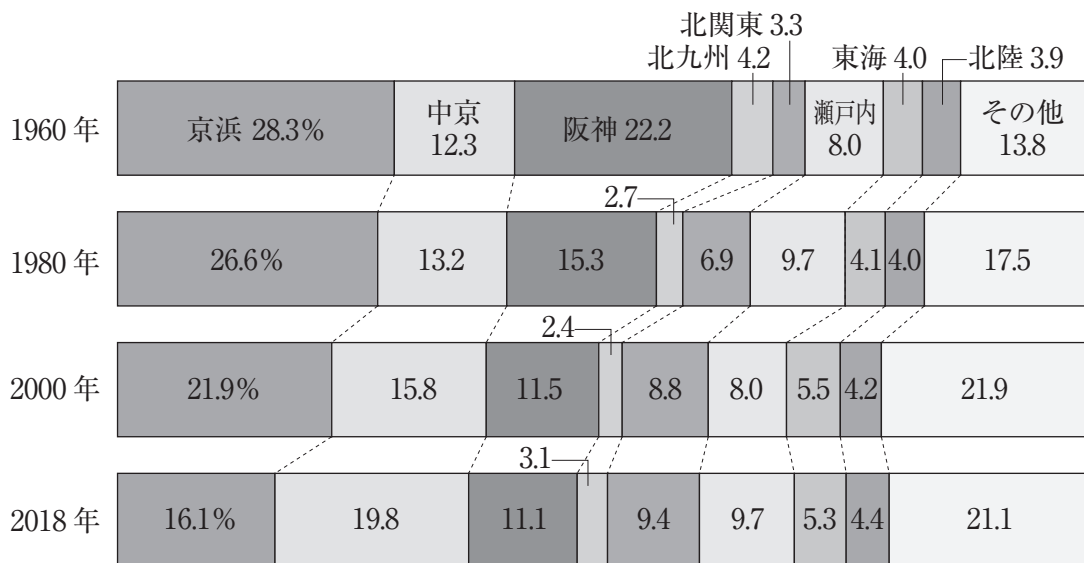
- (2) 電気自動車は環境対策の観点から積極的な導入が進められていますが、その普及には問題点もあります。電気自動車を普及させるにあたっての問題点として正しいものを、次の①～④から選びなさい。

- ① 電気自動車は従来の自動車と速度が異なるため、電気自動車のみが走るための新しい高速道路が必要となる。
- ② 電気自動車は従来の自動車と走る仕組みが異なるので、多くの充電スポットを新設する必要がある。
- ③ 電気自動車は従来の自動車と税金が異なるため、より高い税金がかかる電気自動車を誰が持っているか把握^{はあく}する必要がある。
- ④ 電気自動車は従来の自動車と車体の大きさが異なるため、電気自動車用の駐車場が必要となる。

問3 下線部Cについて、次の問いに答えなさい。

(1) [グラフI] についての説明として正しいものを、後の①～④から選びなさい。

[グラフI] 地域別工業出荷額の割合の変化




(帝国書院「新詳地理資料COMPLETE 2021」)

- ① 京浜工業地帯は他の工業地域と比べて、1960年から2018年まで一貫して最も割合が大きい。
- ② 中京工業地帯は1960年から2018年の4つの時代で比べた時に、2000年において最も割合が大きい。
- ③ 阪神工業地帯は他の工業地域と比べて、1980年において3番目に割合が大きい。
- ④ 北関東工業地域は1960年から2018年にかけて割合が3倍近くまで伸びている。

(2) [グラフII] は日本のある工業地域(地帯)の工業出荷額とその割合を示したものです。[グラフII] は日本の何という工業地域(地帯)のものであるか答えなさい。

[グラフII] 工業出荷額とその割合(2018年)



(帝国書院「新詳地理資料COMPLETE 2021」)

問4 下線部 D について、[表 I] のア～エに該当するのは、静岡県、愛知県、三重県、滋賀県のいずれかです。愛知県に該当する選択肢として正しいものを、[表 I] 中のア～エから選びなさい。

[表 I] 1 世帯当たり乗用車保有台数 (2020年) と昼夜間人口比率[※] (2015 年)

	1 世帯当たり乗用車保有台数 (単位 台)	昼夜間人口比率 (単位 %)
ア	1.42	96.5
イ	1.32	101.4
ウ	1.44	99.8
エ	1.51	98.3

※昼夜間人口比率 = 昼間人口 ÷ 夜間人口 × 100

(二宮書店「データブック オブ・ザ・ワールド 2021」)

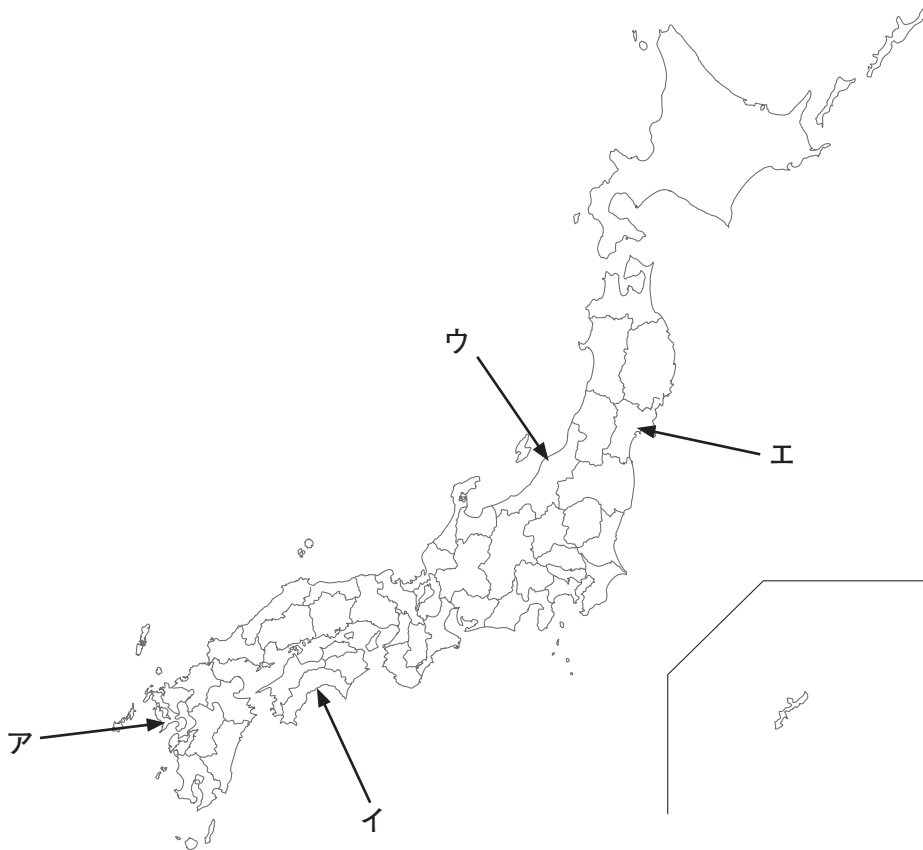
問5 下線部 E について、自動車の普及が進むことによって自動車に乗れない人が困る例として誤っているものを、次の①～④から選びなさい。

- ① 自家用車が増えたことにより、路線バスを利用する人が減り、山間部を走る路線バスが廃線となってしまった。
- ② 自家用車が増えたことにより、電車を利用する人が減り、山間部と都市部を結ぶ電車が廃線となってしまった。
- ③ 自家用車が増えたことにより、フェリーを利用する人が減り、島や遠隔地^{えんかくち}を行き来するフェリーの本数が減ってしまった。
- ④ 自家用車が増えたことにより、航空機を利用する人が減り、日本と海外を結ぶ航空機の本数が減ってしまった。

問6 下線部 F について、次の問いに答えなさい。

(1) 造船業が盛んな都市として正しいものを、次の [地図] 中のア～エから選び、その都市名も答えなさい。なお、ア～エはすべて県庁所在地を示しています。

[地図]



(2) 次の [表Ⅱ] 中のア～エは自動車、鉄道、航空、水運のいずれかです。航空を示したものとして正しいものを、[表Ⅱ] 中のア～エから選びなさい。

[表Ⅱ] 日本の機関別国内輸送量の割合 (2009年) (単位 %)

輸送機関	旅客輸送	貨物輸送
ア	5.5	0.2
イ	65.6	63.9
ウ	28.7	3.9
エ	0.2	32.0

(二宮書店「データブック オブ・ザ・ワールド 2021」)

2 次の文章と [年表] を読んで、後の問いに答えなさい。

歴史をみていくと、数年に1度、数十年に1度に何かが巡ってくるということはよくあります。

2021年についてみていくと、数年、数十年に1度起こるとされる「流行性の病気」としてコロナウイルスが蔓延し、4年に1度の世界的行事であるオリンピックが開催されました。コロナウイルスの世界的流行により、オリンピックは1年延期されて、2021年に開催されました。またオリンピックの延期や中止は歴史的にみても珍しいことです。それほどコロナウイルスの世界的流行の影響力が大きいということでもあります。

これまでもさまざまなA病気が日本で流行しました。「病気と偉人」という観点で歴史を見ていくと、流行性の病気である天然痘が、奈良時代に日本国内でも広がったと言われています。当時、政治上で大きな影響力を持っていたB藤原四子は、朝鮮半島から持ち込まれたとされる天然痘にかかり、4兄弟全員が亡くなりました。また江戸時代には、流行性の病気である麻しんによって、C5代将軍が亡くなったという説があり、6代将軍はインフルエンザにかかって亡くなったという説もあります。さらに江戸時代の末期になると、コレラが流行して、大きな被害にあったという記録も残っています。

1936年のベルリンオリンピックは、ナチスのヒトラー率いるドイツにおいて実施されました。その際に初めて導入された「聖火リレー」は、今では開会式に向けて欠かせない大きなイベントになっています。また1940年の東京オリンピックは、神武天皇紀元（皇紀）2600年記念行事の一環でしたが、日中戦争などを理由に中止となりました。戦後、1964年に東京オリンピックが開催され、日本の戦後復興を世界にアピールすることができたと言われます。

数十年に1度ということでは、近現代の歴史学習の中では1894年、1904年、1914年の10年ごとに大きな戦争が起こったことは有名な話です。しかし、実はこの3つの西暦だけではなく、それ以外にも10年ごとに大きな出来事が起こっていました。それらをまとめたものが下の[年表]です。こうしてみると、多くの有名な事件が10年ごとに起こっており、こうしたある一定の時期ごとにどんなことが起こっているのかを見ていくという学習も、歴史の流れをつかむためには必要な方法の1つだと言えます。

[年表]

年	出来事
1854	(あ) 条約
1864	池田屋事件をきっかけとして禁門の変が起きた
1874	D 佐賀の乱
1884	E 甲申事変
1894	(い)
1904	(う)
1914	(え)
1924	第二次護憲運動によって、F 護憲三派による加藤高明内閣が発足
1934	満州国が帝政となり、(お) が皇帝となる
1944	サイパン島の陥落
1954	自衛隊発足
1964	東京オリンピックの開催
1974	戦後初のG マイナス成長になる

問1 下線部 A について、日本人で最初の糖尿病患者とされる人物が「第 15 回国際糖尿病会議」の記念切手に描かれています。この人物は「この世をばわが世とぞ思ふ望月の欠けたることもなしと思へば」という歌をよんだとされています。この人物を答えなさい。

問2 下線部 B について、藤原四子の父が権力を握っていた時代の法令として正しいものを、次の①～④から選びなさい。

- ① 養老律令 ② 御成敗式目 ③ 十七条憲法 ④ 武家諸法度

問3 下線部 C について、江戸幕府第 5 代将軍の時代に起こったこととして正しいものを、次の①～④から選びなさい。

- ① キリスト教を禁止し、出島を整備した。
② 享保の改革を行い、人材登用を積極的に行った。
③ 儒教道徳を重視し、命を大切にあつかうということを政策に取り入れた。
④ 俵物を量産させ、貿易をうながした。

問4 下線部 D について、士族の反乱と自由民権運動についての説明として誤っているものを、次の①～④から選びなさい。

- ① 廃刀令などにより、士族の特権がうばわれたため、士族の反乱につながった。
② 1877 年に西郷隆盛が鹿児島で西南戦争を起こした。
③ 1881 年に板垣退助が自由党を結成した。
④ 伊藤博文が民撰議院設立建白書を天皇に提出したが受理されなかった。

問5 下線部 E について、この事件の動きを見て、ある人物は「脱亜論」を発表しました。「天は人の上に人を造らず」と記した著書があるこの人物を答えなさい。

問6 下線部 F について、この内閣以降、政党内閣が政権を担当するようになりました。大正時代に本格的な政党内閣を組閣し、「平民宰相」とよばれたこの人物を答えなさい。

問7 下線部 G について、この前年に、日本の高度経済成長が終わりを迎えた理由の 1 つとされる戦争が起きました。ユダヤ民族とアラブ民族という 2 つの民族対立から起こったこの戦争を答えなさい。

問8 [年表] 中の (あ) ~ (お) にあてはまる用語の組み合わせとして正しいものを、次の①~⑥から選びなさい。

	あ	い	う	え	お
①	日米和親	日清戦争	日露戦争	第二次世界大戦	孫文
②	日米和親	日露戦争	日清戦争	第一次世界大戦	孫文
③	日米和親	日清戦争	日露戦争	第一次世界大戦	溥儀 ^{ふぎ}
④	日米修好通商	日露戦争	日清戦争	第二次世界大戦	溥儀
⑤	日米修好通商	日清戦争	日露戦争	第一次世界大戦	孫文
⑥	日米修好通商	日露戦争	日清戦争	第一次世界大戦	溥儀

3 次の文章を読んで、後の問いに答えなさい。

私たちは生きるうえで、常に何かを選び続けている。たとえば今日この場にどのような **A 交通手段** で来るべきか、あるいはいま理科と社会どちらから解くべきか。私たちはそのつど決定をし、その積み重ねがいまのあなた、そしていまの社会を作り上げている。

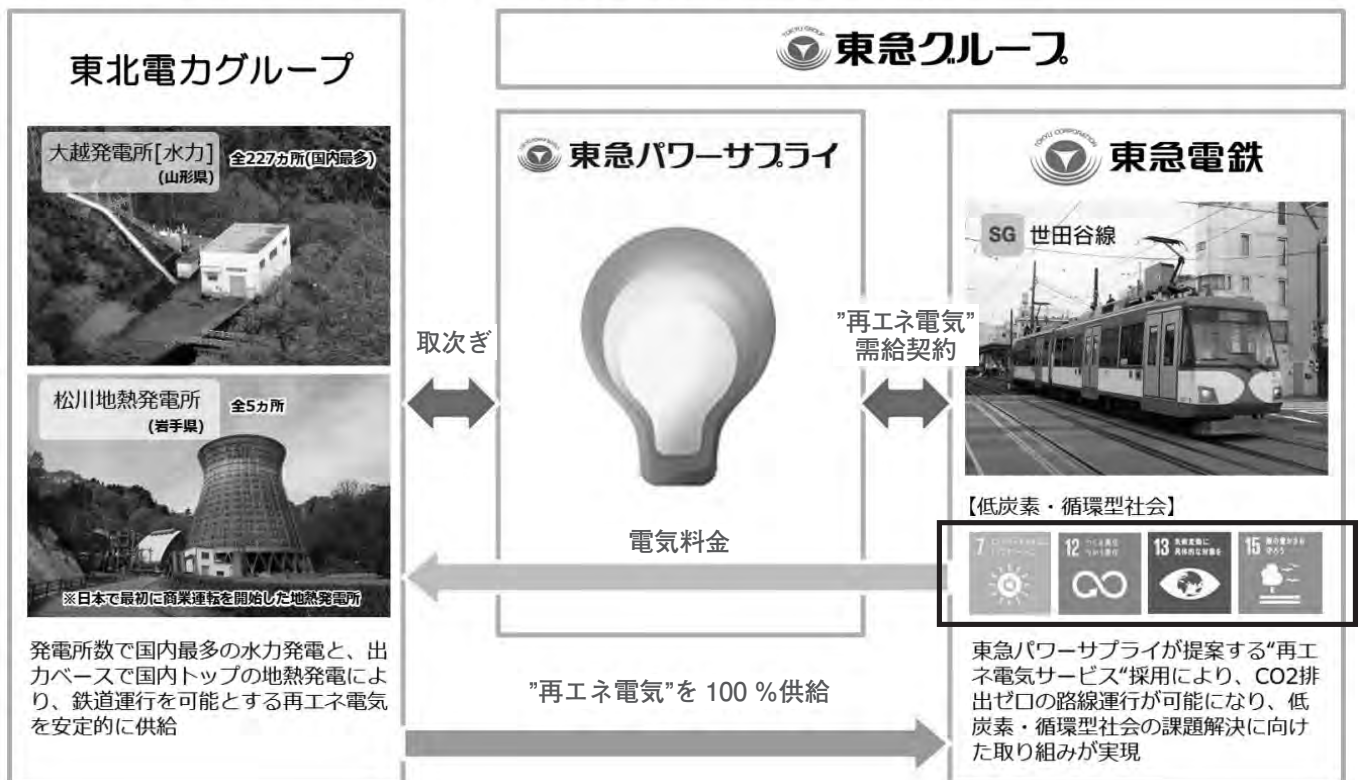
国の機関も決めることの連続だ。たとえば **B 法律を決める** ところである **C 国会** は、国民が選挙で決めた代表者が国の方向性を決める。内閣も裁判所もさまざまなことを決めている。いずれも適切に行われているか、**D 私たち国民が常に見守る必要がある** だろう。

E 新型コロナウイルスの感染拡大 によりさまざまな人が難しい判断を^{せま}迫られることとなったが、きっと今日この試験を受けることも、あなたにとって難しい判断であったに違いない。よい選択だったと思える日が来ることを願うばかりである。

問1 下線部 **A** について、東京都世田谷区を走る東急世田谷線は、現在再生可能エネルギーを 100% 使用して運行されています。[資料 I] はそのしくみについて説明したものです。これを見て、後の問いに答えなさい。

[資料 I] 東急世田谷線が再生可能エネルギー 100% で運行を行うしくみ

■再生可能エネルギー100%電力サービス(以下、再エネ電気)の提供体制



(東急パワーサプライHP)

(1) [資料 I] の で囲った場所にあるマークは、2015年に国連で決められた、2030年までに持続可能でよりよい世界を目指す国際目標の一部です。この目標の名称を、アルファベット4字で答えなさい。

(2) [資料 I] の説明として正しいものを、次の①～④から選びなさい。

- ① 東急電鉄は世田谷線沿線に、水力発電所や地熱発電所を建設した。
- ② 東急電鉄は東急パワーサプライに、“再エネ電気サービス”を提案した。
- ③ 東北電力グループは東急電鉄に、水力発電や地熱発電で作った電気を 100%供給している。
- ④ 東北電力グループは発電量が国内トップの水力発電と、発電所数が国内最多の地熱発電を持つ。

問2 下線部 B について、法律が施行されるまでの説明として正しいものを、次の①～④から選びなさい。

- ① 法律案は、国会議員のみ作成し、提出することができる。
- ② 法律案は、衆議院から先に審議しなければならない。
- ③ 法律案の審議中、必要があれば専門家から意見を聴く両院協議会を開催できる。
- ④ 法律案の審議後、法律は天皇が国民に公布する。

問3 下線部 C について、こうさんとゆうさんは、衆議院と参議院の本会議場の写真を見比べています。後の会話文中の (あ)・(い) にあてはまる語句を、それぞれ漢字 2 字で答えなさい。

[写真 I] 衆議院本会議場



(衆議院HP)

[写真 II] 参議院本会議場



(参議院HP)

こう：演台の後ろの部分がちょっと違うね。[写真 II] には、なんか特等席みたいな座席がある。

ゆう：これは (あ) がおかけになるための座席。開会式で現在も用いられているよ。

こう：なぜ [写真 I] にはその席がなくて、[写真 II] にだけあるのかな？

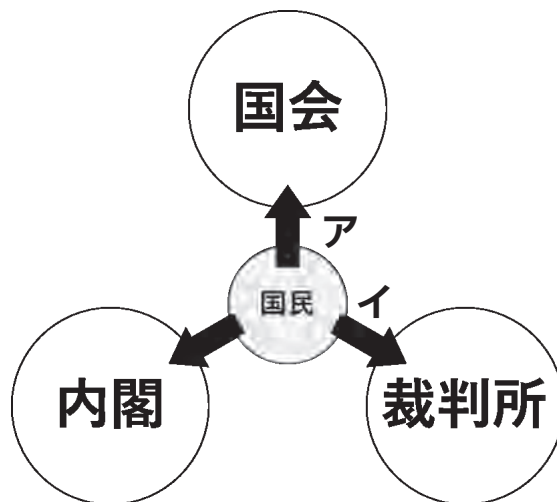
ゆう：[写真 II] の参議院は昔、(い) 院だったよね。その名残^{なごり}で参議院にだけあるんだよ。

こう：(あ) は参議院で何かお話しになることはあるの？

ゆう：開会式に参加されてお言葉を述べられるよ。国事行為の一つだね。

問4 下線部Dについて、次の[図]は国会・内閣・裁判所と国民の関係を示したものです。[図]中の矢印アとイが示す語句の組み合わせとして正しいものを、後の①～④から選びなさい。

[図] 国会・内閣・裁判所と国民の関係



- ① ア 選挙 イ 国民投票 ② ア 選挙 イ 国民審査
 ③ ア 国民投票 イ 選挙 ④ ア 国民審査 イ 選挙

問5 下線部Eについて、新型コロナウイルスの感染拡大により、国や自治体と飲食店は、さまざまなことを決める必要がありました。たとえば等々力村に飲食店Aと飲食店Bの2軒があるとして、どちらも元々は24時までの営業であったとします。しかし村は感染拡大防止のため、どちらの店舗にも20時閉店のお願いを行ったとします。以下の[資料Ⅱ]は飲食店Aと飲食店Bがお願いに従った場合と従わなかった場合で、1日の売り上げがどのようになるかを示したものです。これを見て、以下の問いに答えなさい。

[資料Ⅱ] 1日の売り上げの関係性

		飲食店 A	
		20時で閉店する	24時まで営業する
飲食店 B	20時で閉店する	飲食店 A = 20万円 飲食店 B = 20万円	飲食店 A = 50万円 飲食店 B = 10万円
	24時まで営業する	飲食店 A = 10万円 飲食店 B = 50万円	飲食店 A = 40万円 飲食店 B = 40万円

(1) [資料Ⅱ]を読み解いたものとして正しいものを、次の①～④からすべて選びなさい。

- ① 飲食店Aは20時で閉店すると、20万円以下の売り上げとなる。
 ② 飲食店Bは24時まで営業すると、40万円以上の売り上げとなる。
 ③ 飲食店Aは20時閉店のお願いを受け入れた方が、受け入れない場合より売り上げが上がる。
 ④ 飲食店Bは20時閉店のお願いを受け入れた方が、受け入れない場合より売り上げが上がる。

(2) 等々力村の村長が20時閉店のお願いを飲食店に受け入れてもらえるように行う政策として、効果があると考えられるものを、次の①～④からすべて選びなさい。

- ① 20時閉店のお願いを受け入れた飲食店に、現金を配布する。
- ② 20時以降に飲食店に入店した人に、ポイントを還元する。
- ③ 20時以降営業している飲食店に、等々力村役場の人が注意しに行く。
- ④ 20時以降の混雑を回避させるために、列車の本数を増やす。

4 中学生のとしお君は、社会科の授業で「選挙」について調べていました。そこで、選挙権と人口の関わりに着目し、次の【表】と【グラフ】を作成しました。【グラフ】のA～Cは、1940年、1945年、2015年のいずれかの日本の人口ピラミッドを表しています。これらの資料を見ながら、後の問いに答えなさい。

【表】日本の選挙権の移り変わり

実施年	選挙権	全人口比
1890（明治23）年	直接国税15円以上納める25歳以上の男子	1.1%
1902（明治35）年	直接国税10円以上納める25歳以上の男子	2.2%
1920（大正9）年	直接国税3円以上納める25歳以上の男子	5.5%
1928（昭和3）年	25歳以上の男子	19.8%
1946（昭和21）年	20歳以上の男女	48.7%
2016（平成28）年	18歳以上の男女	83.6%

（本校作成）

【グラフ】

