

令和5年度 S特選コース

第2回 入学試験問題 (2月2日 午後)

社 会

注 意

- 1 この問題用紙は、試験開始の合図で開くこと。
- 2 問題用紙と解答用紙に受験番号・氏名を記入すること。
- 3 答えはすべて解答用紙に記入すること。
漢字で書くべき解答は、漢字で答えること。
- 4 印刷がわからない場合は申し出ること。
- 5 試験終了の合図でやめること。

受験番号		氏名	
------	--	----	--

東京都市大学等々力中学校

1 次の会話文を読んで、後の問いに答えなさい。

としお：今日は、東京都市大学等々力中学校のS特選入試の日だ！^{きんちよう}緊張するなー。よし！ 受験会場に向かうぞ。まずは渋谷駅の地下から田園都市線に乗って、二子玉川駅まで向かおう。

母：用賀駅を通過したから、そろそろ二子玉川駅に着くね。

としお：あれ？ お母さん、変だよ。渋谷駅では地下から乗ったはずなのに、二子玉川駅はホームが2階にあるよ。

母：それはね、この【地図A】を見て考えましょう。二子玉川駅の近くには多摩川が流れているわよね。二子玉川駅周辺は、多摩川が武蔵野台地を侵食^{しんしょく}して丘や谷の起伏^{きふく}を作っているの。A武蔵野台地と多摩川低地との境をなす玉川地域の中心では、大きな土地の高さの差があるの。そこで二子玉川駅があるところではホームを2階に作る必要があったんじゃないかしら。

としお：そうなんだ。それじゃあ、二子玉川駅から大井町線^かに乗り換えて、等々力駅まで向かおう！

母：上野毛駅を発車したから、そろそろ等々力駅に着くわね。

としお：あれ？ お母さん、変だよ。この【地図B】と【図】を見てみると、多摩川^{はま}を挟んだ反対側の神奈川県にも下野毛^あっていう似たような地名があるよ。

母：それはね、B（あ）からよ。

としお：そうなんだ。そろそろ等々力駅に着くね。C【地図C】を見ながら東京都市大学等々力中学校まで向かおう！

母：試験開始時間までまだ時間があるから、駅前のコンビニによって飲み物でも買いませんか。

としお：わかった。コンビニって何でも売っていて本当に便利だよ。最近^あはD地元の野菜なんかもコンビニで売っていてビックリしたよ！

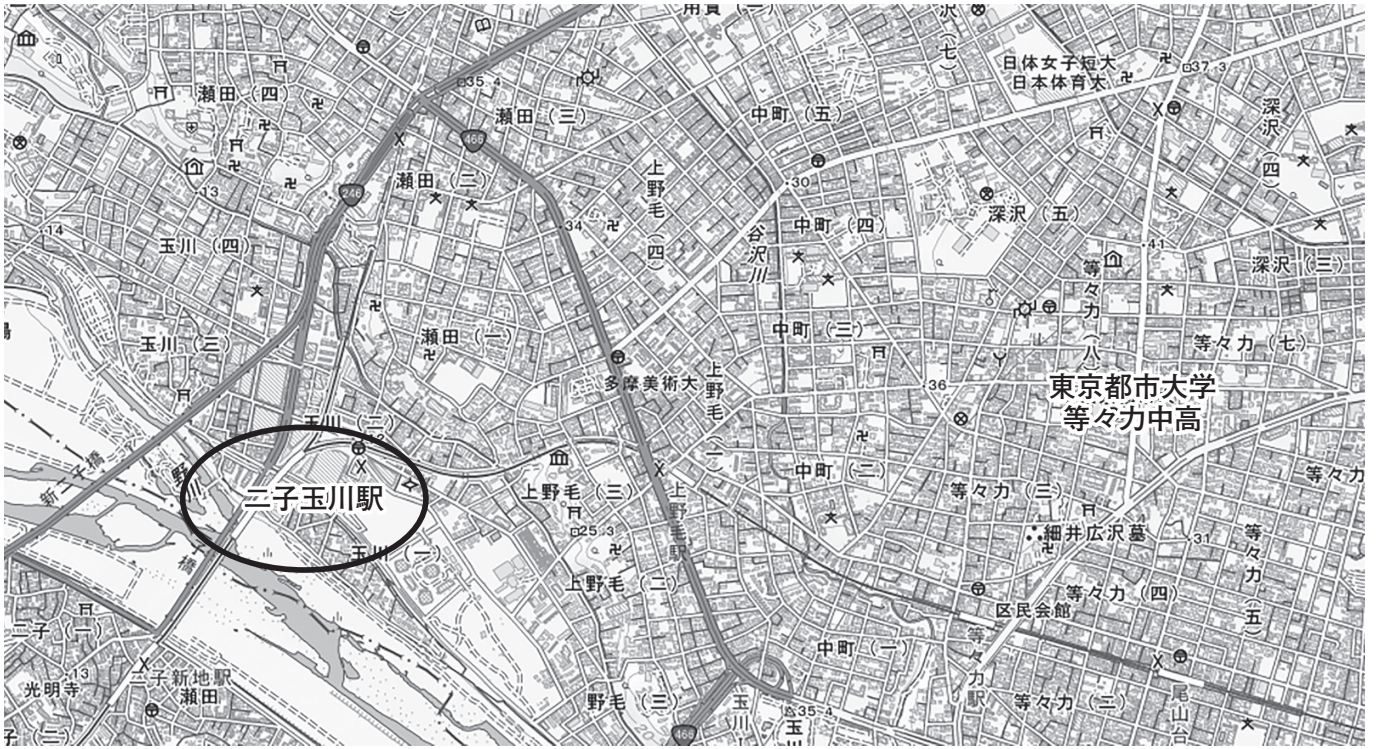
母：それじゃあ、飲み物も買ったし学校へ向かいましょう。E世田谷区のF区民会館を通った先の横断歩道は信号が無いから気を付けて渡ろうね。

としお：はい。

母：学校に着いたわね。入学試験がんばってね！

としお：うん、頑張るよ！ 今日、ここまで地図を見ながらやって来たけど、もっとこの地域のことを知りたくなったよ！

[地図A] 二子玉川駅周辺の地図（二子玉川駅に○を加筆）



(地理院地図 HP)

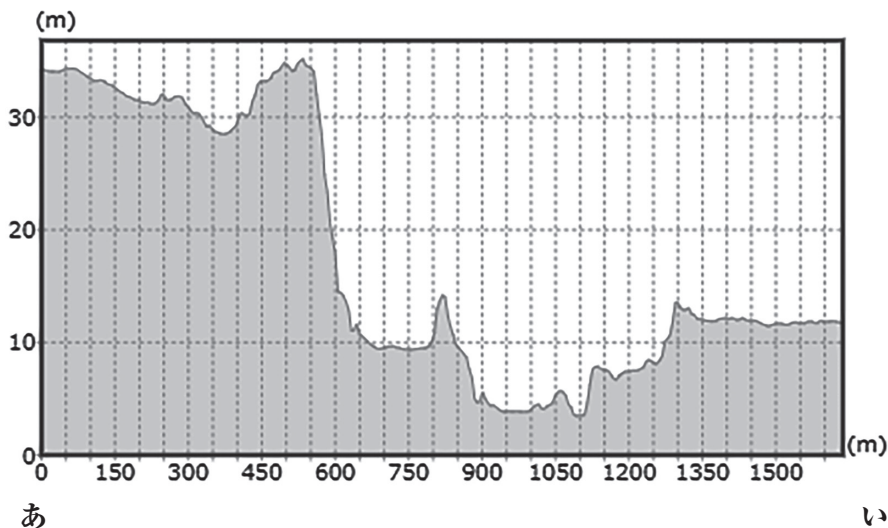
[地図 B] 野毛周辺の治水地形分類図と地図を重ねたもの

治水地形分類図は、治水対策を進めることを目的に、国・都道府県が管理する河川の流域のうち主に平野部を対象として、扇状地、自然堤防などの詳細な地形分類および堤防などの河川工作物等を表示している主題図のこと。



(地理院地図 HP)

[図] [地図 B] 中の地点「あ」—「い」の断面図



問1 下線部 A について、世田谷区の地質は武蔵野台地を形成する地層で構成されており、その多くは武蔵野砂れき層や武蔵野砂れき層を覆う後期更新世に堆積した地層が中心です。この後期更新世に堆積した地層を何といいますか、答えなさい。

問2 下線部 B について、文中の空らん（ あ ）にあてはまる文を、次の①～④から選びなさい。

- ① かつては同じ集落であったが、江戸時代に河川が流れを変えて分断され、川を挟んだ標高が高い方を上野毛、標高が低い方を下野毛とよんでいる
- ② 上流から見て上手側を上野毛、下手側を下野毛とよんでいる
- ③ 江戸時代の東山道に沿って、京都に近い方を上野毛、京都から遠い方を下野毛とよんでいる
- ④ 上野毛は久我山という山の中を流れており、その一方で下野毛は久我山の山麓にある

問3 下線部 C について、以下の [地図 C] にある地図記号として誤っているものを、後の①～⑤から選びなさい。

[地図 C]



(地理院地図 HP)

- ① 寺院
- ② 警察署
- ③ 郵便局
- ④ 消防署
- ⑤ 神社

問4 下線部Dについて、地元の農家で生産された野菜や果実を、各農家や販売所などで販売したり学校給食で利用したりする取り組みを何といいますか、漢字4字で答えなさい。

問5 下線部Eについて、世田谷区の姉妹都市として、オーストリアのウィーン市ドゥブリング区があります。このウィーン市には世田谷区と同様に河川が流れています。この河川として正しいものを、次の①～⑤から選びなさい。

- ① アマゾン川 ② ナイル川 ③ ドナウ川 ④ ミシシッピ川 ⑤ コンゴ川

問6 下線部Fについて、玉川区民会館では災害時に様々な対応を取ります。このような自治体による公助として誤っているものを、次の①～④から選びなさい。

- ① 地下水を貯蓄しておき、非常時に人々へ配布する。
② 非常時には避難所として区民会館を人々に開放する。
③ 日ごろから区民会館で災害時の対応について人々に周知していく。
④ 緊急時に備えて、ハザードマップを各自で確認して区民会館への行き方を確認しておく。

(問題は次のページに続く)

2 次の文章を読んで、後の問いに答えなさい。

これまでの日本の歴史を見ていくと、今日までに日本においてもテロ事件や政治家に対する暗殺事件はいくつも起こってきました。日本の公安を守る公安調査庁のホームページを見ると、一昨年 2021 年に起こった世界でのテロ関連事件の記録が約 30 件ほどトップページに紹介されています。日本ではどのようなテロ事件や政治家に対する暗殺事件があったのかについて、たどってみたいと思います。

まず古代において、A 645 年に当時の政治の実権を握っていたとされる蘇我氏が殺害された事件が有名ですが、この事件も見方によれば政治家に対する暗殺事件、クーデター事件と言えるかもしれません。そして、武士が政治を支配していた中世や近世においては、鎌倉幕府 3 代将軍（あ）が甥の公暁に殺されたことが挙げられますし、室町幕府 6 代将軍（い）は播磨の守護大名であった赤松満祐によって暗殺され、室町幕府 13 代将軍（う）は三好氏と松永氏らによって暗殺されていました。そして江戸時代末期においては、（え）で B 大老・井伊直弼が暗殺されています。さらにこの頃は、日本国内で尊王攘夷を唱える者たちが外国人を襲撃する事件も起こっています。その中でも、薩摩藩士が道ですれ違ったイギリス人一行を斬りつけた（お）は、翌年に起こることになる（か）の引き金となり、結果として薩摩藩は敗北しました。そして（か）と同様、長州藩士らによるイギリス公使館焼き討ち事件も発生しています。これらの事件の加害者である薩摩藩と長州藩が、幕府をのちに倒し、明治政府を樹立して世界各国との融和を図っていくことになっていきます。

近代においては、自由民権運動を進めていた板垣退助、政府の要人である岩倉具視などが暴漢に襲われる事件が起こり、「維新の三傑」の一人である大久保利通は紀尾井坂の変で暗殺されました。一方、1909 年には C 伊藤博文が暗殺されてしまいます。明治時代とは、名実ともに命がけで政治活動を行っていく覚悟が必要であった時代だったように感じられます。

大正時代に入ると、内閣総理大臣であった（き）が東京駅で暗殺され、のちに昭和天皇となる皇太子の裕仁親王が無政府主義者によって散弾銃で襲撃される虎ノ門事件も起こりました。また、昭和時代に入ると、内閣総理大臣の浜口雄幸が、（き）と同じく、東京駅で襲撃され、その傷がもとでのちに亡くなりました。（き）の襲撃の前には戦後恐慌が発生し、虎ノ門事件の前には関東大震災による震災恐慌が、浜口雄幸の襲撃の前には昭和恐慌が、それぞれ発生しており、経済的な不況がこの 3 つの事件の共通点であったとみることができます。

1930 年代以降は「軍部の時代」となっていますが、日本の軍人による事件が起こるようになります。1931 年には陸軍による軍事政権樹立のためのクーデター未遂事件である三月事件や十月事件が起こります。そして、翌 1932 年には当時の内閣総理大臣が、（く）において海軍青年将校らによって暗殺されました。1936 年の（け）では、陸軍皇道派によって内閣総理大臣が襲撃され、大蔵大臣、内大臣、教育総監らが殺害されましたが、これに対して昭和天皇は激怒し、制圧したと言います。1930 年代以降の昭和戦前期においては、軍部の影響力、つまり武力による支配力が非常に強かったと言えるでしょう。

問1 下線部 A について述べた文として正しいものを、次の①～④から選びなさい。

- ① この当時の天皇は、中大兄皇子の母である推古天皇だった。
- ② 蘇我馬子が中大兄皇子と中臣鎌足らによって飛鳥宮において殺害された。
- ③ この事件の直後、改新の詔が出され、中大兄皇子は天武天皇に即位した。
- ④ この事件の直後、天皇の住まいが飛鳥宮から難波宮にうつった。

問2 文中の（ あ ）～（ う ）にあてはまる人物名として正しい組み合わせを、次の①～④から選びなさい。

- ① あ 源実朝 い 足利義輝 う 足利義政
- ② あ 源頼家 い 足利義政 う 足利義頼
- ③ あ 源頼家 い 足利義持 う 足利義教
- ④ あ 源実朝 い 足利義教 う 足利義輝

問3 文中の（ え ）にあてはまる事件名を解答らんに合うように答えなさい。

問4 下線部 B に関連して、江戸時代の政治や経済について述べた文として誤っているものを、次の①～④から選びなさい。

- ① 江戸から遠く離れた^{はな}年貢^{ねんぐ}の多くとれる所に配置されている大名を外様大名という。
- ② 非常時の最高職は大老だが、通常時（平時）の最高職は老中だった。
- ③ 江戸時代には、農民は田畑を売ってお金に^{かんきん}換金してはならないというきまりがあった。
- ④ 江戸の城下町は、町人地、武家地、寺社地のそれぞれの生活区域に分かれていた。

問5 文中の（ お ）（ か ）（ く ）（ け ）にあてはまるできごととして正しい組み合わせを、次の①～④から選びなさい。

- ① お 生麦事件 か アヘン戦争 く 五・一五事件 け 二・二六事件
- ② お 池田屋事件 か アヘン戦争 く 二・二六事件 け 五・一五事件
- ③ お 生麦事件 か 薩英戦争 く 五・一五事件 け 二・二六事件
- ④ お 池田屋事件 か 薩英戦争 く 二・二六事件 け 五・一五事件

問6 文中の（ き ）にあてはまる人物名を答えなさい。

問7 下線部Cについて述べた文として誤っているものを、次の①～④から選びなさい。

- ① 明治政府の意向に沿って、韓国併合条約を締結した。
- ② 日本初の内閣総理大臣になり、その後元老となった。
- ③ 幕末において、奇兵隊の高杉晋作や旧知の仲である井上馨らとともに、尊王攘夷運動を行った。
- ④ 明治時代において、岩倉使節団として大久保利通らとともに、海外を視察した。

(問題は次のページに続く)

3 次の文章を読んで、後の問いに答えなさい。

2022年は鉄道開業150周年の年でした。日本の鉄道はA 1872年、新橋駅から横浜駅（現在の桜木町駅）間で開通しました。当時はB 蒸気機関車で、海上を航行する蒸気船に対し陸上を走ることから、「陸蒸気（おかじょうき）」と呼ばれていたそうです。その後、C 国が主導して鉄道建設を一気に進め、わずか17年後のD 1889年に日本の大動脈である東海道本線を新橋駅から神戸駅まで全通させました。1972年にはE 天皇皇后両陛下ご臨席のもと、鉄道開業100周年記念式典が行われました。

今日にいたるまで全国津々浦々に路線網が整備されていきましたが、最近ではF 赤字となる路線もあり、将来にわたって路線網が維持できるかは不透明です。国や地方公共団体が鉄道会社をどう支えるか、真剣に議論をする必要があります。

問1 下線部Aについて、1872年は「学制」という、学校制度を定めた法律が公布された年でもあります。現在の学校制度についての説明として誤っているものを、次の①～④から選びなさい。

- ① 能力に応じて等しく教育を受ける権利があるということが、日本国憲法で規定されている。
- ② 義務教育は無償とすることが、日本国憲法で規定されている。
- ③ 子どもは普通教育を受ける義務があるということが、日本国憲法で規定されている。
- ④ 保護者は保護する子女に普通教育を受けさせる義務があるということが、日本国憲法で規定されている。

問2 下線部Bについて、〔あ〕による火力発電は、蒸気機関車が動く仕組みと同じ仕組みが用いられています。〔あ〕はかつての日本のエネルギーの中心で、他の化石燃料に比べ安定供給が可能でかつ価格が安い一方、二酸化炭素を多く排出するデメリットもあります。空らん〔あ〕にあてはまる語句を、漢字2字で答えなさい。

問3 下線部Cについて、現在鉄道やバスなどの公共交通機関を管理している国の行政機関はどこですか。解答らんにあてはまるように答えなさい。

問4 下線部Dについて、1889年は大日本帝国憲法が公布された年でもあります。大日本帝国憲法の説明として正しいものを、次の①～④から選びなさい。

- ① 国民主権が定められていた。
- ② 兵役の義務が定められていた。
- ③ 帝国議会は衆議院と参議院の二院制であった。
- ④ 言論の自由は制限なく、幅広い形で認められた。

問5 下線部 E について、内閣の助言と承認により天皇が行う国事行為として誤っているものを、次の①～④から選びなさい。

- ① 衆議院を解散する。
- ② 憲法や法律を公布する。
- ③ 内閣総理大臣を任命する。
- ④ 最高裁判所の判決を確定する。

問6 下線部 F について、2022 年はJRの複数の会社が、利用者の少ない地方路線の黒字額・赤字額を明らかにしました。このニュースを見ながら、鉄道会社社長・バス会社社長・地方公共団体の首長・高校生の4名が会話をしています。次の会話文と【資料I】を見て、後の問いに答えなさい。

あおい：私が毎日乗っている列車は1両編成ですし、車内もガラガラです。ただ鉄道が廃止になると、高校まで通う方法がなくなってしまいます。私ができるのは運賃を払うことくらいですが、たとえ赤字であってもぜひ存続してほしいです。

たろう：この地域は赤字路線ばかりであることは分かります。ただ鉄道が廃止になると、自家用車を持たない地域の人が移動しにくくなるだけでなく、地域に人が来なくなってしまいます。私ができることは税金から赤字路線の赤字額の一部を補うことくらいですが、たとえ赤字であってもぜひ存続してほしいです。

ゆう：赤字路線を廃止にしない方がいいとは思っていますが、輸送人員が2019年度比でマイナスばかりとなっており、かつ新型コロナウイルスの影響で利用者数が減っているので、このままだと地域の交通網を維持することが難しくなる可能性があります。

じろう：赤字路線を廃止にしない方がいいとは思っていますが、輸送密度が2000人未満の路線は赤字ばかりとなっており、かつ新型コロナウイルスの影響で利用者数が減っているので、このままだと地域の交通網を維持することが難しくなる可能性があります。

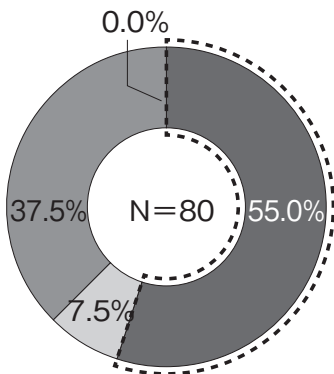
[資料 I]

①

■ 高校進学における公共交通の利用状況しょうきょう

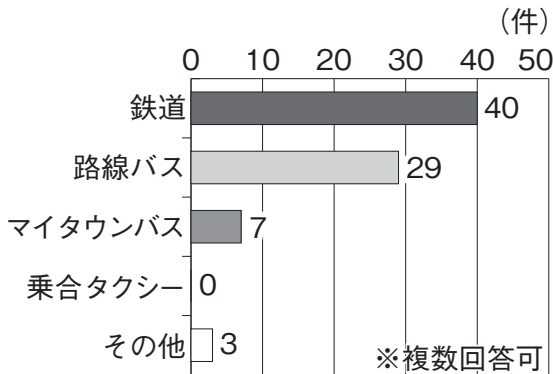
- ・ 日常的に公共交通を利用しているとの回答が5割以上で、その手段は鉄道が最も多く、次いで路線バスという結果となっている。
- ・ 利用駅・バス停は、「八郎潟駅（前）」「五城目高校前」が多く、その他地域外の駅の利用が多い。

【公共交通利用の有無】



- 日常的に利用してる
- 状況によって利用する予定(天気が悪い時など)
- 現在は利用していないが、今後利用したい
- 利用したいが、どのように運行しているかわからない

【通学手段】



【通学時に利用している駅・バス停】

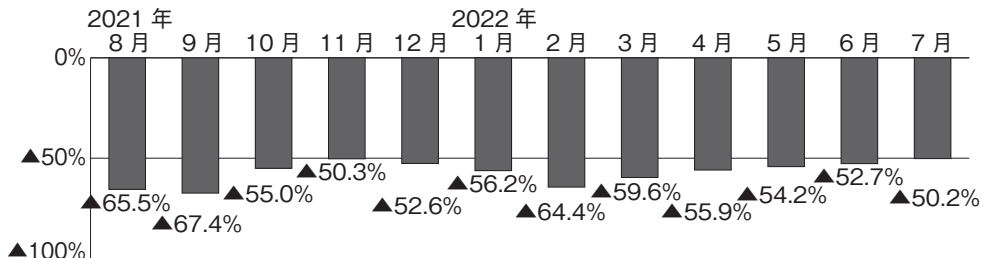
駅名	JR		バス停		
	乗車駅	降車駅	バス停名	乗車駅	降車駅
土崎駅	13	0	井川さくら駅前	2	0
上飯島駅	2	0	八郎潟駅前	24	3
秋田駅	5	0	五城目高校前	3	33
追分駅	5	0	※回答数が乗降ともに1件だったものは省略		
羽後飯塚駅	2	0			
鹿渡駅	3	0			
八郎潟駅	0	39			

(五城目町 HP)

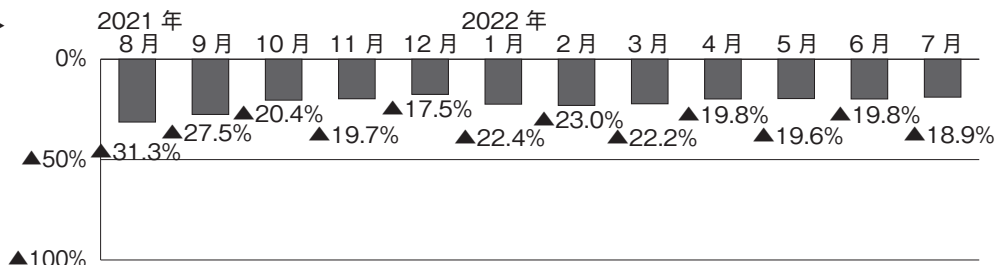
②

○ 輸送人員(2019年同月比)(6・7月は見込み)

< 高速バス等 >



< 一般路線バス >



(国土交通省 HP)

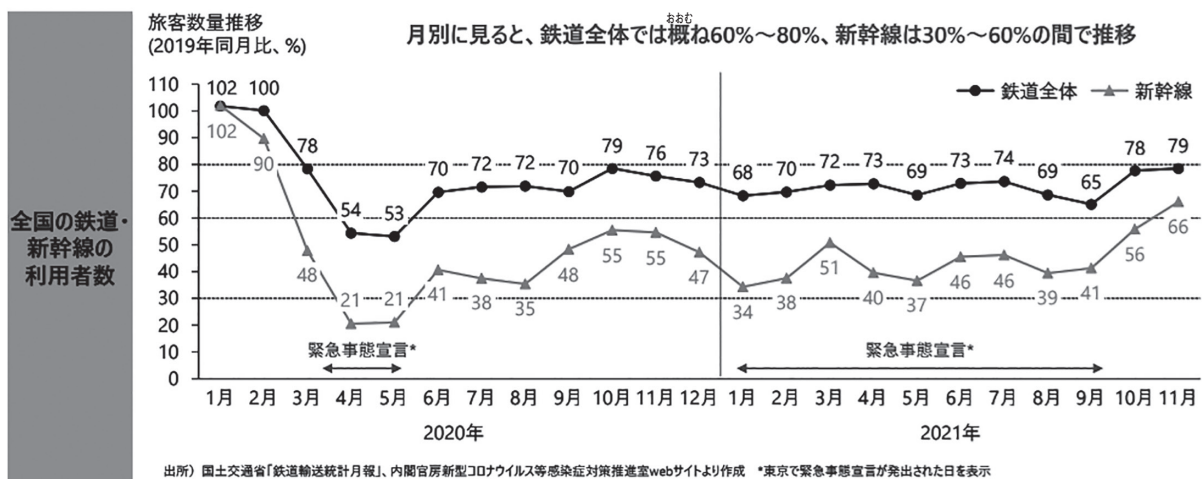
③

輸送密度(平均通過人員)2,000人未満の NHK
区間ごとの収支データ

路線名	区間	輸送密度 (人/日)	営業係数 (円)	赤字額 (百万円)
津軽線	中小国～三厩	107	7,744	-711
津軽線	青森～中小国	720	2,326	-2,164
大湊線	野辺地～大湊	533	912	-1,266
五能線	五所川原～川部	1,507	677	-682
五能線	深浦～五所川原	548	1,253	-1,382
五能線	能代～深浦	309	2,256	-1,586
五能線	東能代～能代	975	1,316	-177
奥羽本線	新庄～湯沢	416	1,962	-1,759
奥羽本線	湯沢～大曲	1,704	887	-1,794
奥羽本線	東能代～大館	1,485	1,282	-3,242
奥羽本線	大館～弘前	1,165	1,277	-2,437
花輪線	鹿角花輪～大館	537	1,687	-830
花輪線	荒屋新町～鹿角花輪	78	10,196	-749
花輪線	好摩～荒屋新町	418	1,725	-855
八戸線	鮫～久慈	454	1,682	-1,460
男鹿線	追分～男鹿	1,781	885	-1,086
山田線	盛岡～上米内	358	1,146	-192
山田線	上米内～宮古	154	2,662	-1,895
釜石線	花巻～遠野	897	759	-1,207
釜石線	遠野～釜石	583	1,209	-1,269
大船渡線	一ノ関～気仙沼	754	1,009	-1,575
北上線	北上～ほっとゆだ	435	2,283	-1,087
北上線	ほっとゆだ～横手	132	3,466	-597

(NHK NEWS WEB)

④



(野村総合研究所 HP)

※「輸送人員」とは、その交通機関で運んだ人の数を示す。

※「輸送密度」とは、その路線を利用する人の1 kmあたりの人数を示す。低ければ低いほど利用者が少ない。

(1) 地方公共団体の首長の立場から述べていると考えられるのは、4名のうち誰か答えなさい。

(2) ゆうさんの立場を説明するためのデータとして適切なものを、[資料I]の①～④から選びなさい。

4 以下の問いに答えなさい。


問1 [年表]を見ると、江戸の町では火災での被害が大きかったことがわかります。なぜ江戸の町は、火災による被害が大きかったのでしょうか。火災が発生した季節の気候の特徴にふれながら、[図]を参考に25字以内で説明しなさい。

[年表] 江戸の大規模な火災被害

西暦	元号	発生日	通称	死者・行方不明者
1657	明暦3	1月18日	明暦の大火	108000人
1772	明和9	2月29日	明和の大火	14700人
1806	文化3	3月4日	文化の大火	1200人

(内閣府 災害情報 HP をもとに作成)

[図] 18世紀末～19世紀の江戸橋付近再現模型



(山川&二宮 ICT ライブラリー)

問2 下の [表] について、後の問いに答えなさい。

[表] 都市部と都市化の影響が少ない15地点の年間平均相対湿度変化と年間平均気温変化の長期変化傾向

地点		年間平均相対湿度変化 (%)	年間平均気温変化 (℃)
都市部	札幌	- 12.8	+ 2.7
	名古屋	- 17.0	+ 2.9
	横浜	- 13.0	+ 2.8
	京都	- 15.3	+ 2.7
	福岡	- 14.4	+ 3.1
15 地点		- 5.7	+ 1.6

(気象庁 HP より作成)

(注1) 「相対湿度」とは、ある温度の空気中に含まうる最大限の水分量に比べて、どの程度の水分を含んでいるかを示す数値である。天気予報などで耳にする「湿度」のこと。つまり、気温が変化すれば相対湿度も変化する。

(注2) 年間平均相対湿度変化は1927年から2018年、年間平均気温変化は1927年から2021年までの統計の平均。

(1) 上の [表] を見て、都市部において都市化の影響の少ない地域に比べ、どのような変化が起きているのか25字以内で説明しなさい。なお、解答は解答らんの書き出しに続く形で解答すること。

(2) (1) の変化により、どのような災害の危険性が高くなっているか答えなさい。

記入例
良い例 ●
悪い例 ∅ (○)

《注意事項》
・解答は解答欄の枠内に濃くはっきりと記入して下さい。
・解答欄以外の部分には何も書かないで下さい。

用紙タテ上 こちらを上にして下さい

この場所に
解答しないこと

1 問1 [] 層

問2 []

問3 []

問4 []

問5 []

問6 []

2 問1 []
問2 []
問3 [] の変
問4 []
問5 []
問6 []
問7 []

3 問1 []
問2 []
問3 [] 省
問4 []
問5 []

問6 (1) [] (2) []

4 問1 []
問2 (1) 都市部の方が []
(2) []

社会