

令和5年度 特別選抜コース

第2回 入学試験問題 (2月3日 午後)

(S特選チャレンジ)

# 社 会

## 注 意

- 1 この問題用紙は、試験開始の合図で開くこと。
- 2 問題用紙と解答用紙に受験番号・氏名を記入すること。
- 3 答えはすべて解答用紙に記入すること。  
漢字で書くべき解答は、漢字で答えること。
- 4 印刷がわからない場合は申し出ること。
- 5 試験終了の合図でやめること。

受験番号		氏名	
------	--	----	--

東京都市大学等々力中学校

1 次の文章を読んで、後の問いに答えなさい。

日本は、周囲を太平洋や日本海に囲まれている島国です。北海道、本州、四国、九州の四つの大きな島と、奄美大島、淡路島や **A 択捉島** をはじめとする多くの島々が南北に連なっています。また、世界でも有数の森林国で、日本の国土の約 ( **あ** ) が森林となっています。周囲を海に囲まれているので、**B 地形的に、多くの半島や岬、湾、入り江などが存在しますが、**ここでは神奈川県の三浦半島を取り上げます。

神奈川県の三浦半島は、県の南東部にある **C 半島** です。横須賀市、鎌倉市、逗子市、三浦市、葉山町で、三浦半島地域圏を構成しています。三浦半島は、太平洋にむけて突き出した形の半島で、東京湾と ( **い** ) 湾とを分けています。三浦半島の東方には千葉県の房総半島が、三浦半島の西方には静岡県の伊豆半島があります。

三浦半島と言えば、三浦大根が有名ですが、その他にも **D 色々な野菜** が有名です。また、三浦半島の西南端に位置する三崎は、**E 古くから遠洋漁業の基地** として栄え、大量のマグロが水揚げされる「マグロの町」として有名です。漁港周辺にはマグロ料理など、海の幸が味わえる飲食店が多く並んでいます。半島の南端の城ヶ島では、釣りをしている人や、磯遊びをしている人、また、**F ビーチコーミング** をしている人などを見かけます。

問1 文中の ( **あ** ) にあてはまるものを、次の①～④から選びなさい。

- ① 4分の1                      ② 3分の1                      ③ 2分の1                      ④ 3分の2

問2 文中の ( **い** ) にあてはまるものを、次の①～④から選びなさい。

- ① 伊勢                      ② 駿河                      ③ 相模                      ④ 陸奥

問3 下線部 A について、択捉島は日本固有の領土でありながら、現在、ロシアが占領をしています。同じく、下の [写真 I] の竹島も日本固有の領土でありながら、韓国が占領をしています。この竹島が所属する都道府県の説明として正しいものを、後の①～④から選びなさい。

[写真 I]



- ① この県は中国地方にあり、原爆ドームや厳島神社が有名です。
- ② この県では、とんこつラーメンや明太子が有名です。
- ③ この県には日本三大名園の1つの後楽園があり、もも太郎の昔話が有名です。
- ④ この県の県庁所在地は松江市で、石見銀山や出雲大社が有名です。

問4 下線部 B について、日本には三陸海岸など、いくつかのリアス海岸があります。リアス海岸は、古くから良港として利用されています。その理由を 15 字以内で答えなさい。

問5 下線部 C について、日本には多くの半島がありますが、[地図] の矢印が指している半島名を答えなさい。

[地図]



問6 下線部 D について、[表] 中の ( う ) にあてはまる都道府県名を答えなさい。

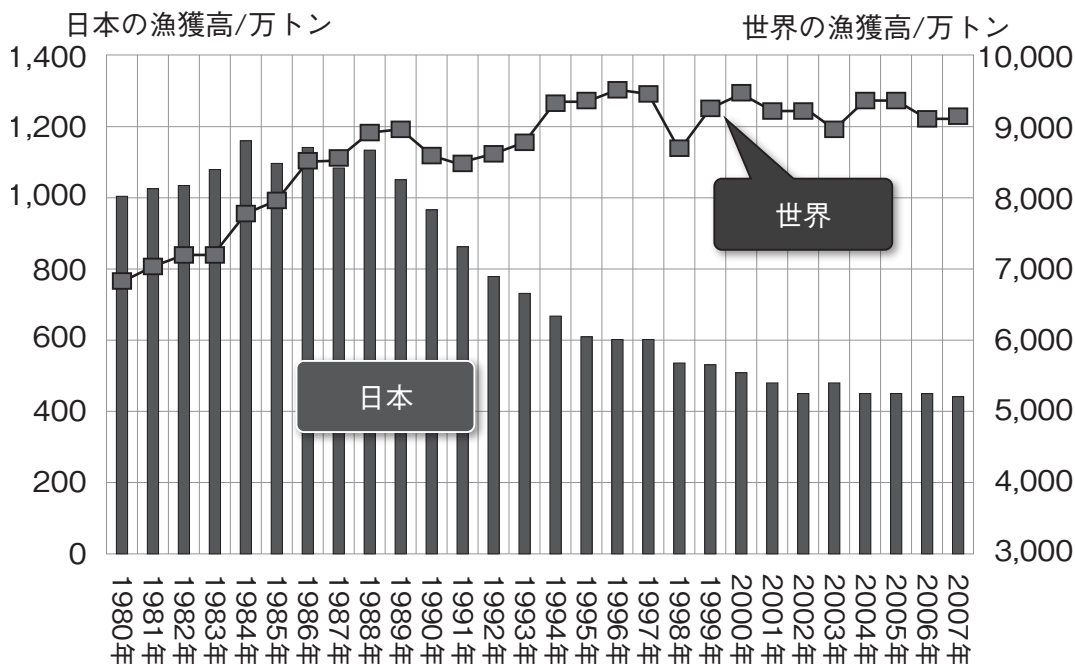
[表] 日本の都道府県別農産物生産量 (2020 年) (千 t)

	1 位	2 位	3 位	4 位
だいこん	( う ) 960	千葉県 142	青森県 122	鹿児島県 94
たまねぎ	( う ) 842	佐賀県 138	兵庫県 100	長崎県 35
トマト	熊本県 133	( う ) 61	愛知県 44	茨城県 43

(『データブック オブ・ザ・ワールド 2022』)

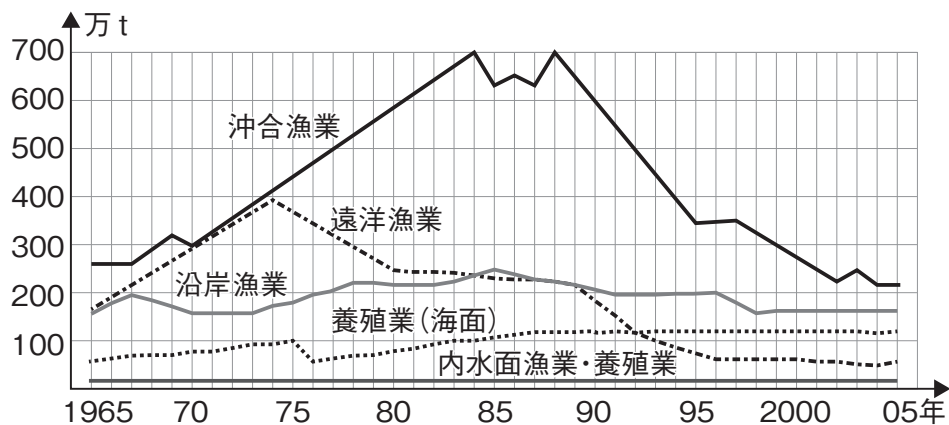
問7 下線部Eについて、[グラフI] [グラフII] を参考にしながら、日本の漁業に関する文として正しいものを、後の①～④から選びなさい。

[グラフI] 日本の漁獲高・世界の漁獲高



(水産大百科)

[グラフII] 日本の漁業別漁獲量の変化



(Hello School 社会科)

- ① [グラフI] を見ると、世界の漁獲高の推移について、2003年の漁獲高は1981年の漁獲高より約2,000万トン増えていることが分かる。
- ② [グラフI] を見ると、日本の漁獲量は、1989年から下降し始めているが、それ以降、前年度の漁獲量を上回った年は1年もなかったことが分かる。
- ③ [グラフII] を見ると、日本の沖合漁業と遠洋漁業は、いつも同じ時期に漁獲量が下降し、いつも同じ時期に漁獲量が上昇していることが分かる。
- ④ [グラフII] を見ると、1965年の時点と、2005年の時点とで比べた場合、沖合漁業・遠洋漁業・沿岸漁業・養殖業の全ての漁獲量が減少していることが分かる。

問8 下線部Fについて、ビーチコーミングとは、海岸や浜辺に打ち上げられた漂着物ひょうちやく、例えば、[写真Ⅱ]  
[写真Ⅲ]のように貝殻やガラス（ビーチグラス）や陶器の破片などを集めることです。さて、焼き物と  
言えば、九谷焼があります。九谷焼で有名な都道府県名を答えなさい。

[写真Ⅱ]



[写真Ⅲ]



(問題は次のページに続く)

2 次の文を読んで、後の問いに答えなさい。

「どこでもドア」があればなあ、と思うことがある。一瞬にして移動できる。そうすれば時間の節約にもなる。人間は生きている限り、少なからず日々移動をしている。そして移動には必ず時間がかかる。人類の歴史は、移動の歴史であるとも言える。

A 日本列島に人類が初めて足を踏み入れたのは、今から約3万8000年前頃とされている。その後、B 旧石器時代から弥生時代は、陸上での移動は基本的には徒歩のみであった。世界では乗馬の風習などが紀元前から見られるが、3世紀前半の日本の様子を記すC 『魏志』倭人伝には日本に馬や牛がいなかったと記されている。

律令時代になると、道路が整備されるようになった。これをD 古代官道というが、古代官道は地方広域区分である五畿七道に沿って整備された。

中世になると、交通の要所には（あ）が設けられるようになった。朝廷や荘園領主、守護大名らによって設置された（あ）では、通行税が徴収された。戦国時代には、戦国大名たちが相次いで（あ）を廃止するようになったが、江戸時代になると幕府が（あ）を復活させた。

明治時代になると、人々の移動は大きな変化を迎えることになった。1872年、新橋—横浜間に初めての鉄道が開通した。これにより、それまで徒歩で1日弱かかっていた行程は35分に短縮され、人々の移動はそれまでよりも活発になっていった。E 1883年には初の私鉄として日本鉄道会社が上野—熊谷間で営業を開始し、翌年には高崎まで延伸して、東京と高崎が鉄道で繋がった。

海では船で移動し、陸上では鉄道で移動する。F 20世紀に入ると、これに空での移動が加わるようになった。はじめは軍用を中心に利用された航空機も、次第に民間での利用が増えていき、1931年には羽田飛行場が開場した。

問1 下線部Aについて、どのように日本列島へ人類がやってきたか説明した文として正しいものを、次の①～④から選びなさい。

- ① 現在よりも寒冷な自然環境により海水面が低く、大陸と陸続きの部分歩いて移動してきた。
- ② 現在よりも寒冷な自然環境により海水面が高く、丸木舟に乗って移動してきた。
- ③ 現在とほぼ変わらぬ気候により日本列島が形成され、朝鮮から対馬などに泳いで移動してきた。
- ④ 現在とほぼ変わらぬ気候により日本列島が形成され、朝鮮から対馬などに丸木舟に乗って移動してきた。

問2 下線部Bについて、等々力中学校のトシ君は歴史の授業で原始時代に関する調べ学習と発表を行うことになりました。しかし、そのために作った時代ごとの特徴を記したカードを落としてしまい、順番がわからなくなってしまいました。次の①～③の3枚のカードを時代が古い順に並べ替えなさい。

中小動物を射とめるための弓矢や、さまざまな用途にあわせた土器の使用が広まった。

①

ナウマンゾウやオオツノジカなどの大型動物を捕える生活をしてきた。

②

収獲物は高床倉庫や貯蔵穴に保管されるようになり、こうした生産物をめぐった争いが発生した。

③



問3 下線部 C について、『魏志』倭人伝に記されている内容として正しいものを、次の①～④から選びなさい。

- ① 朝鮮半島南部での立場を有利にするため、倭の五王があいついで朝貢した。
- ② 「日出づるところの天子 書を日没するところの天子にいたす」と記されている。
- ③ 倭人の社会は百あまりのクニに分かれ、楽浪郡を通じて定期的に朝貢してきた。
- ④ 邪馬台国の女王は「親魏倭王」の称号を中国の皇帝からおくられた。

問4 下線部 D について述べた下の文章の空らんには共通する漢字1字が入ります。この漢字を答えなさい。

中央と地方を結ぶこの交通制度は、約 16 km ごとに（ ）家が設けられ、（ ）制がしかれた。この（ ）家は役人たちが利用し、利用者には（ ）鈴が与えられ、位階によって供給される（ ）馬の数が定められていた。

問5 文中の（ あ ）にあてはまる言葉を漢字2字で答えなさい。

問6 下線部 E について、次の [表] [地図 I] [地図 II] を参考に、鉄道が高崎と上野の間で開通した理由を 20 字以上 30 字以内で説明しなさい。

[表] 1880 年の横浜港輸出品の金額と構成比

品名	金額 (万ドル)	構成比 (%)
生糸	861	46.3
茶	473	25.4
さんらんし 蚕卵紙	99	5.3
くずいと 屑糸	68	3.7
のしいと 罎斗糸	61	3.3
その他	296	16.0
計	1858	100.0

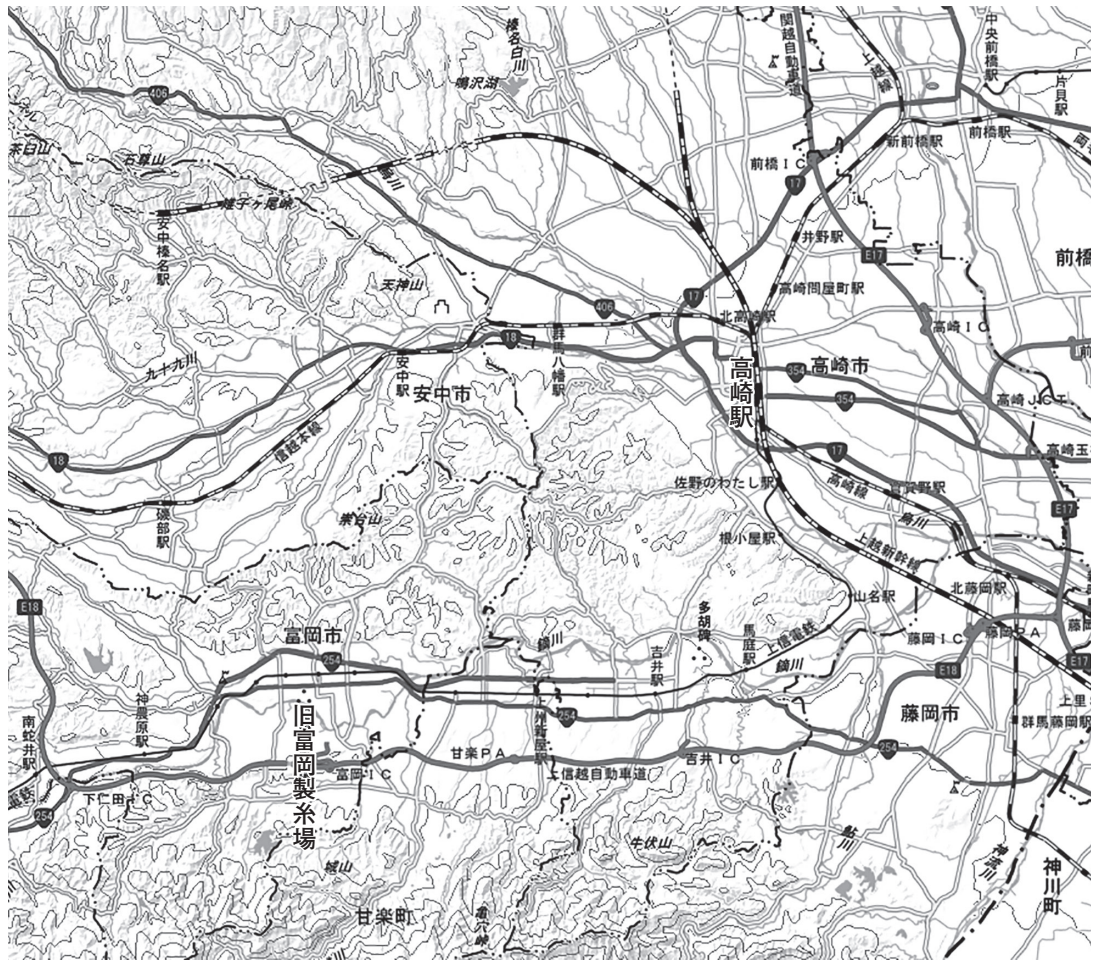
(横浜税関 HP)

[地図 I] 日本鉄道会社開通当時の路線図



(T&J Silk Mulberry 一部改変)

【地図Ⅱ】現代の高崎周辺の地図



(地理院地図)

問7 下線部Fについて、20世紀におこった出来事として正しいものを、次の①～④から選びなさい。

- ① 西郷隆盛を中心に九州で西南戦争がおこった。
- ② 中国で辛亥革命がおこり、孫文が中華民国を建国した。
- ③ ロシア革命でソ連が崩壊し、ロシア帝国が建国された。
- ④ 戊辰戦争がおこり、会津若松城で旧幕府軍が新政府軍に抵抗した。

3 次の文章は毎日小学生新聞の記事から一部ぬき出したものです。この文章を参考に、後の問いに答えなさい。

岸田文雄 A 総理大臣は10日、19人の B 大臣のうち14人を交代させて第2次岸田 C 内閣を発足させました。D ロシアによるウクライナ侵攻、E 中国の海洋進出、物価高など多くの課題を抱えており、岸田さんは記者会見で「数十年に1度とも言われる難局を突破するため、経験と実力<sup>とつば</sup>に富んだ新たな政権を発足させた」と説明しました。

(2022年8月12日 毎日小学生新聞)

問1 下線部 **A** についての説明として誤っているものを、次の①～④から選びなさい。

- ① 内閣総理大臣を指名する選挙は衆議院と参議院で行われ、参議院での決定が優先される。
- ② 内閣総理大臣は国会で決められたことにもとづいて、国の仕事を進める内閣の長である。
- ③ 内閣総理大臣は国会議員の中から選ばれる。
- ④ 内閣総理大臣の任命は天皇により行われる。

問2 下線部 **A** について、日本の軍国主義化を防ぐために、日本国憲法では内閣総理大臣とその他の国務大臣の資格をどのように定めていますか。説明しなさい。

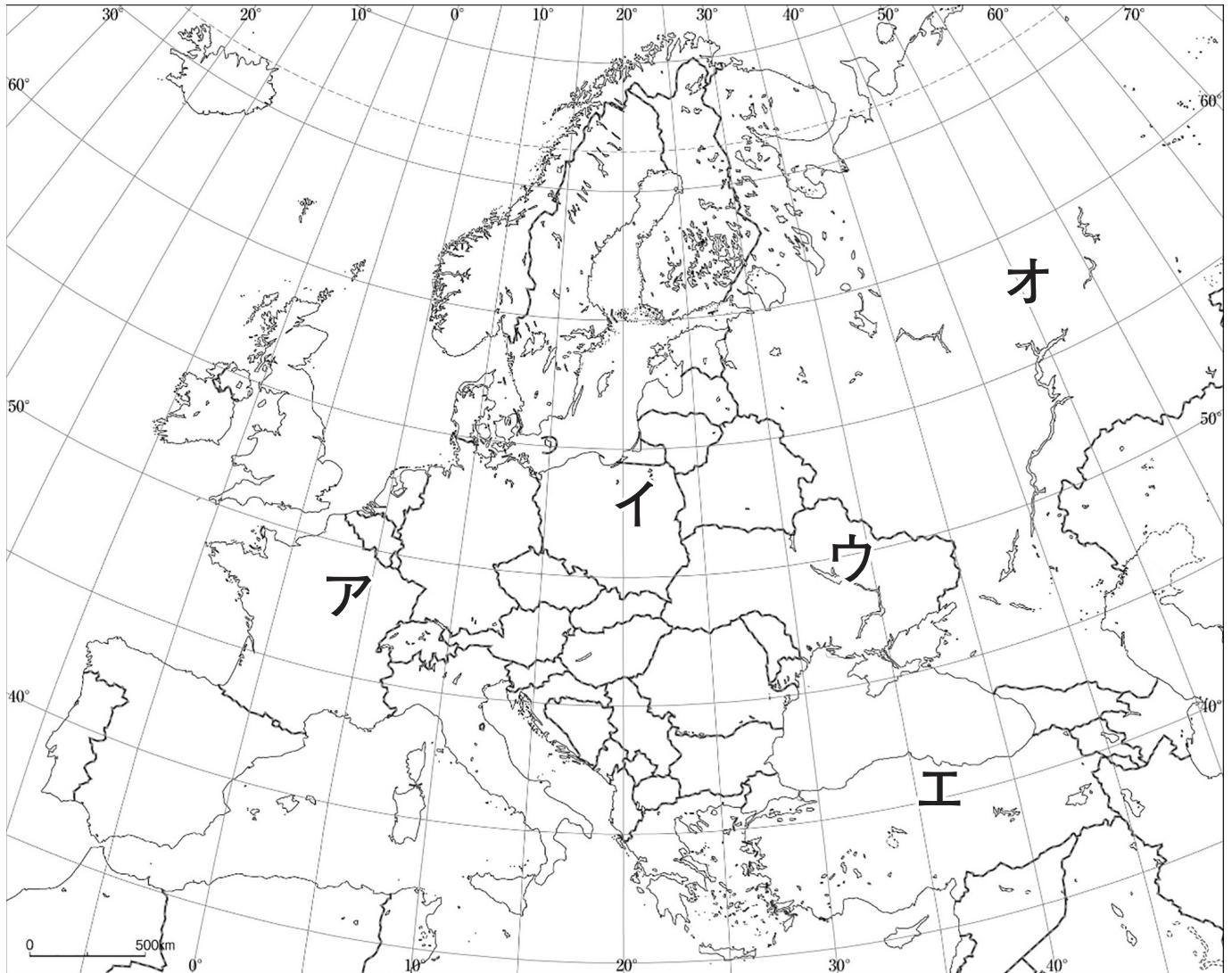
問3 下線部 **B** について、以下のそれぞれの業務を担当する大臣が所属する省の名前を略さずに答えなさい。

- (1) 新型コロナウイルス感染症などの対策をし、働く人の環境を整える。
- (2) 子どもたちが教育を受けられるように、勉強の環境を整えたり、学校での学習の方針を決める。

問4 下線部 **C** について、日本では三権分立の考え方にもとづき、行政権をつかさどる機関として内閣が設置されました。三権のうち、最高裁判所などの裁判所が担当する権力は何か答えなさい。

問5 下線部 D について、ロシアとウクライナの位置を [地図] 中の記号ア～オから選び、その正しい組み合わせを、後の①～⑤から選びなさい。

[地図]



- ① ロシア — イ      ウクライナ — オ
- ② ロシア — ウ      ウクライナ — エ
- ③ ロシア — ウ      ウクライナ — イ
- ④ ロシア — オ      ウクライナ — ア
- ⑤ ロシア — オ      ウクライナ — ウ

問6 下線部 E について、中国が2022年8月4日に発射した弾道ミサイルが日本のEEZ内に落ちたことが問題となりました。このことについて、以下の問いに答えなさい。

- (1) EEZとは沿岸国が天然資源の開発・管理などの権利をもつ水域です。EEZの日本語での名前を答えなさい。
- (2) 日本は多くの離島をもち、その離島もEEZを決定する基準となっています。日本の最東端の島を答えなさい。

評価点	令和5年度 特選コース (S特チャレンジ)
	第2回 中学入学試験問題 [社会] 解答用紙 (2月3日午後)
氏名	

受験番号	○ 1 ○ 2 ○ 3 ○ 4 ○ 5 ○ 6 ○ 7 ○ 8 ○ 9
	○ 1 ○ 2 ○ 3 ○ 4 ○ 5 ○ 6 ○ 7 ○ 8 ○ 9
	○ 1 ○ 2 ○ 3 ○ 4 ○ 5 ○ 6 ○ 7 ○ 8 ○ 9
	○ 1 ○ 2 ○ 3 ○ 4 ○ 5 ○ 6 ○ 7 ○ 8 ○ 9

記入例

良い例	●
悪い例	○

《注意事項》

- ・解答は解答欄の枠内に濃くはっきりと記入して下さい。
- ・解答欄以外の部分には何も書かないで下さい。

用紙タテ上 こちらを上にしてください

この場所に 解答しないこと	1	問1	
		問2	
		問3	
		問4	
		問5	
		問6	
		問7	
		問8	
	2	問1	
		問2	→ →
		問3	
		問4	
		問5	
		問6	
	3	問1	
		問2	
		問3 (1)	(2)
		問4	
		問5	
		問6 (1)	(2)

# 社会